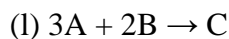
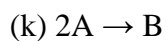
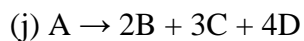
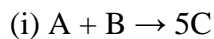
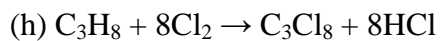

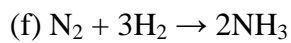
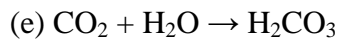
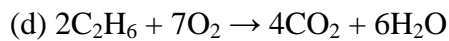
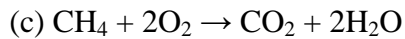
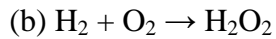
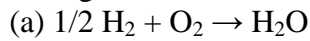


44. Geben Sie für die folgenden Gasphasenreaktionen einen Reaktionsverlauf über den abreagierten Anteil an:



Hinweis: So wie in der Tabelle in der Vorlesung!

45. Geben Sie die Reaktionsraten für oben genannten Reaktionen an.

46. Geben Sie die Geschwindigkeitsgesetze für die oben genannten Reaktionen und die Reaktionsordnungen nach jeder Komponente an.